

Tutto ciò che sappiamo
sull'orologio...



A cura di CLAUDIA ATTANASIO

Cosa abbiamo scoperto l'ultima volta?



- I minuti si leggono per 5;
- basta contare le tacche per scoprire quanti sono i minuti trascorsi;
- per essere veloci, ricordiamo alcuni punti di riferimento:
1 → 5 minuti; 3 → 15 minuti; 6 → 30 minuti; 9 → 45 minuti



Un passo avanti...



Abbiamo detto che:

- I minuti si contano per 5 → 5 è una quantità che si ripete quante volte?



Conta e poi vai avanti



12 volte!!!!!!!!!!!!!!



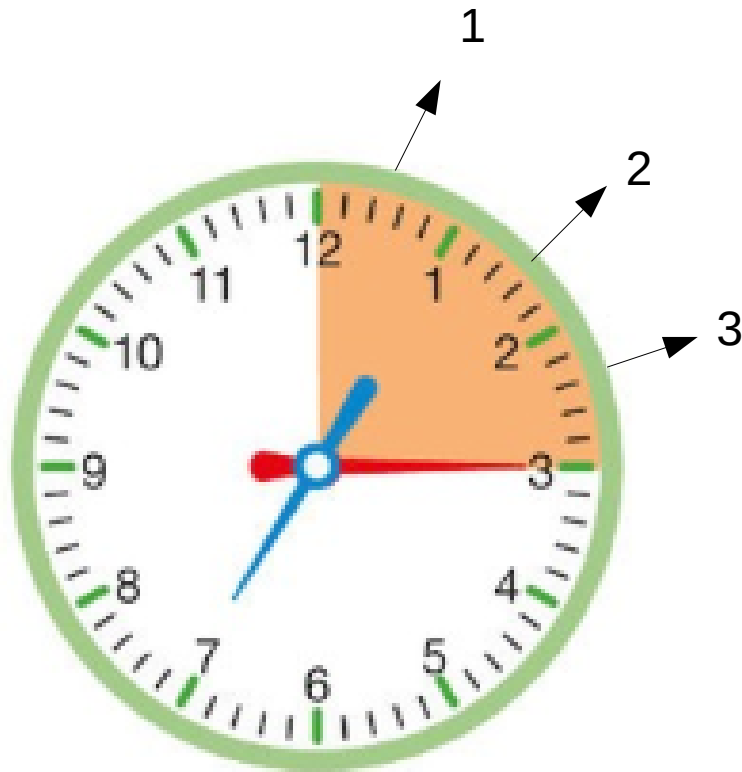
Trucchetto!



- A cosa vi fa pensare questa quantità che si RIPETE?



La moltiplicazione



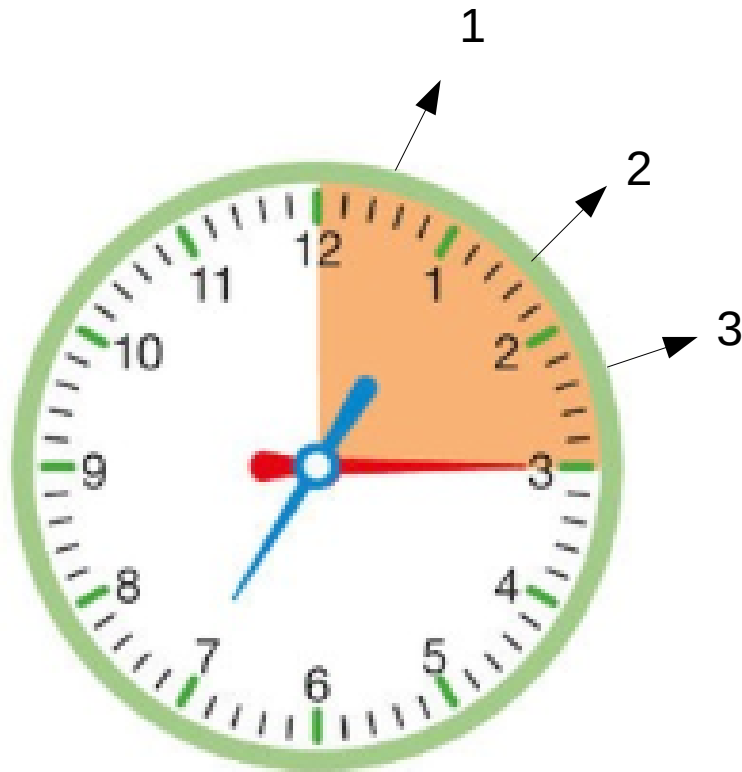
In questo caso la quantità 5 si ripete 3 volte.

- Addizione ripetuta:

$$5+5+5=$$

$$5 \times 3 =$$

La moltiplicazione



In questo caso la quantità 5 si ripete 3 volte.

- Addizione ripetuta:

$$5 + 5 + 5 = 15$$

- Moltiplicazione

$$5 \times 3 = 15$$


Quindi basta studiare bene la tabellina del 5 e la sua sequenza:



- 5 – 10 – 15 – 20 – 25 – 30 – 35 – 40 – 45 – 50
sempre +5
- Ripeti la tabellina del 5 e poi vai avanti!



Prova tu!




5 x quante volte si ripete la
quantità?
Basta vedere dove si trova la
lancetta lunga dei minuti.

8 volte

Che ore sono?



Prova tu!



Sono le 5 e quaranta.

Pagina 158 esercizio 1 e 2. Poi vai avanti e controlla





🔧 Osserva le lancette dei minuti e completa le frasi.



Sono le cinque
e 40 minuti.



Sono le undici
e 35 minuti.



Sono le otto
e 5 minuti.



Sono le due
e 50 minuti.

🔧 Leggi l'ora, poi disegna tu la lancetta dei minuti.



ore 3:10



ore 3:40



ore 3:20



ore 3:55

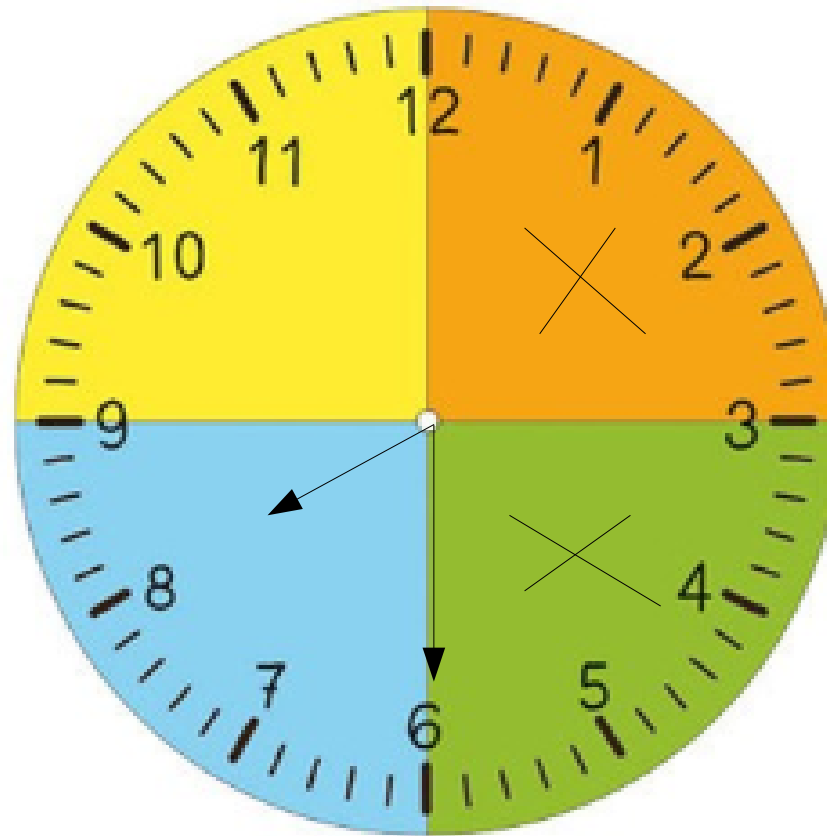
Pronti?



PAROLE SPECIALI PER VOI



Una torta orologio!!!!

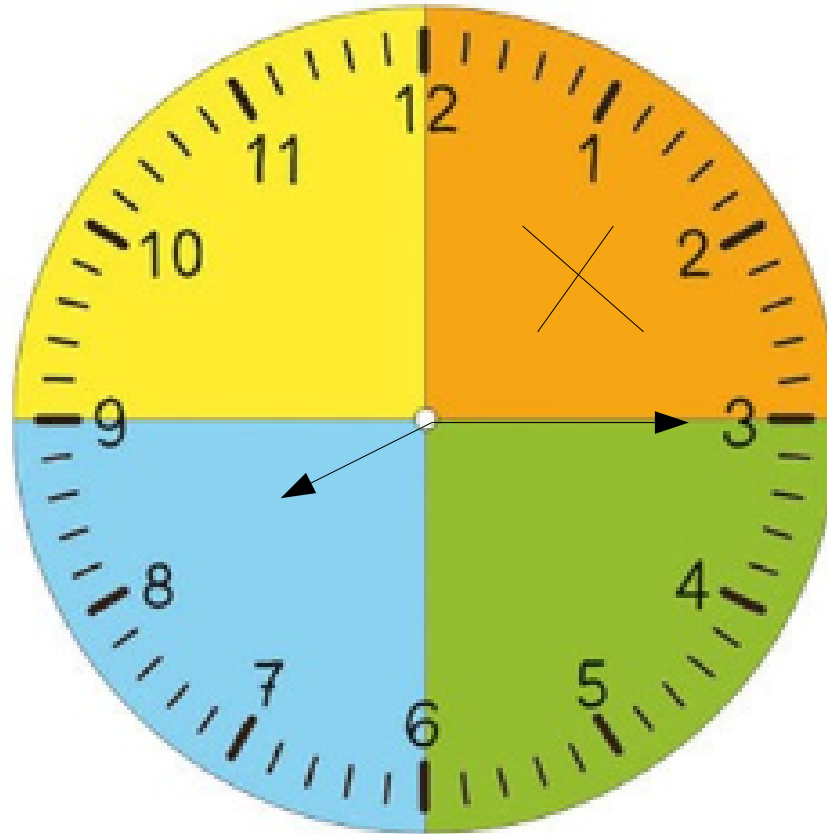


Immagina
l'orologio diviso in
quattro parti

Se io mangio il pezzo di torta arancione e verde, quanta ne ho mangiata?

Metà → quindi sono le **otto e mezza**

Una torta orologio!!!!

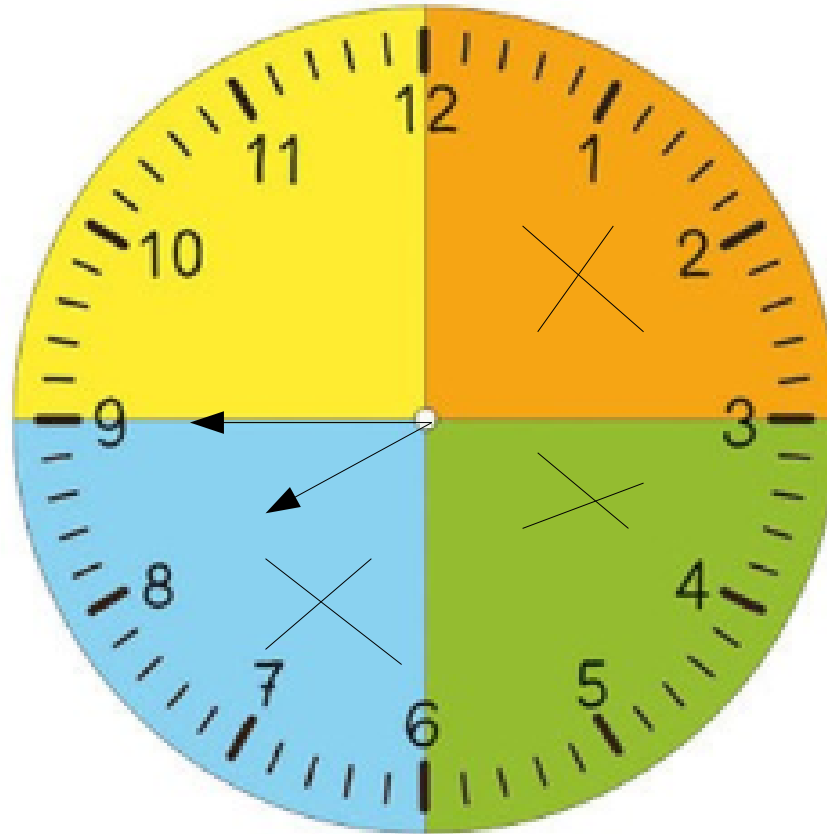


Quanti sono i pezzi di torta in tutto?

Se io mangio solo il pezzo di torta arancione, quanti pezzi ho mangiato?

Solo uno di quattro → quindi sono le **otto e un quarto**

Una torta orologio!!!!



Quanti sono i pezzi di torta in tutto?

Se io mangio il pezzo di torta arancione, verde e azzurro quanti pezzi ho mangiato?

TRE di quattro → quindi sono le otto e tre quarti



Grazie e a presto!

Maestra Claudia

