

VERIFICA FACILE di MATEMATICA

Livello base



Le attività sono state prodotte dalla prof.ssa Ada Vantaggiato (Docente specialista per il sostegno didattico).



Creative Common License: questo documento è pubblicato sotto licenza Creative Common License

Tu sei libero di riprodurre, distribuire, comunicare al pubblico, esporre in pubblico, rappresentare, eseguire e recitare quest'opera alle seguenti condizioni:

- **Attribuzione.** Devi attribuire la paternità dell'opera (INCLUSIVITA' E BISOGNI EDUCATIVI SPECIALI - Prof.ssa Ada Vantaggiato – www.sostegnobes.wordpress.com).
- **Non commerciale.** Non puoi usare quest'opera per fini commerciali.
- **Non opere derivate.** Non puoi alterare o trasformare quest'opera, ne' usarla per crearne un'altra.

In ogni caso, puoi concordare col titolare (ada.vantag@gmail.com) dei diritti utilizzzi di quest'opera non consentiti da questa licenza.

Questa licenza lascia impregiudicati i diritti morali.

A1. Scomponi il numero 187, segna con una crocetta la risposta esatta:

- A. 1h-7da-8u
 - B. 1h-8da-7u
 - C. 1u-7h-8da
 - D. 1da-8u-7h
-

A2. Osserva i seguenti numeri messi in successione:

15-16-17-18-19-20-22-24-25-26-27-28-29-30

Quale numero manca?

- A. 20
 - B. 21
 - C. 25
 - D. 24
-

A3. Quale tra le seguenti relazioni è FALSA?

- A. 21 è minore di 8
- B. 10 è maggiore di 8
- C. 10 è uguale a 10
- D. 13 è minore di 18

A4. Fai l'addizione $54 + 32$. Quale sarà il suo risultato?

- A. 87
 - B. 86
 - C. 88
 - D. 87
-

A5. Fai la sottrazione $98 - 78$. Quale sarà il suo risultato ?

- A. 20
 - B. 10
 - C. 22
 - D. 12
-

A6. Qual è il risultato della moltiplicazione 2×4 ?

- A. 8
- B. 12
- C. 24
- D. 6


A7. Bisogna mettere in ordine crescente (cioè dal più piccolo al più grande) i seguenti numeri:

27 16 12 9 21

Qual è l'ordine giusto?

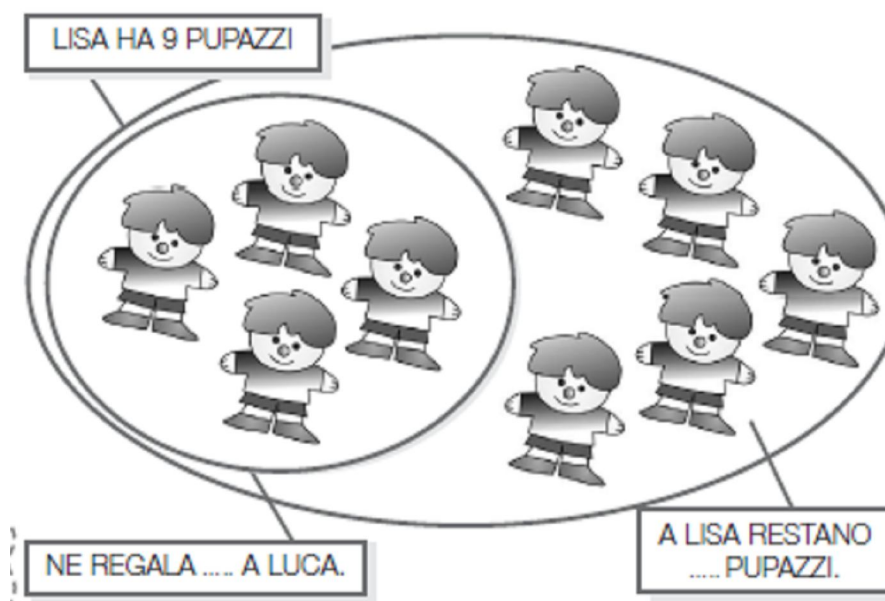
- A. 27 21 16 12 9
- B. 9 27 16 21 12
- C. 16 27 9 21 12
- D. 9 12 16 21 27

A8. Al circo ci sono 4 tigri e 5 leoni. Quanti animali feroci ci sono in tutto al circo?




- A. 7
- B. 8
- C. 10
- D. 9

A9. La mamma compra a Lisa 9 pupazzi. Lisa ne regala 4 a Luca. Quanti pupazzi restano a Lisa?



- A. 2
- B. 4
- C. 6
- D. 5

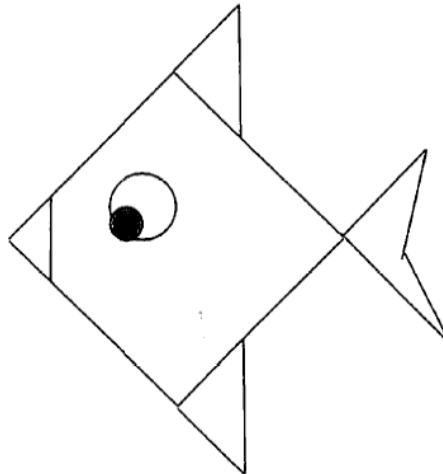
A10. Osserva la seguente figura.



Quale è il suo nome?





- A. Il triangolo
- B. Il quadrato
- C. Il rettangolo
- D. Il cerchio

A11. Quanti triangoli ci sono nel pesce?



- A. 3
- B. 4
- C. 5
- D. 6

A12. Cosa c'è nella casella 3-C?

1					
2					
3					
4					
5					
	A	B	C	D	E

- A. faccina
- B. cuore
- C. luna
- D. nuvola