


# Osserva e rispondi



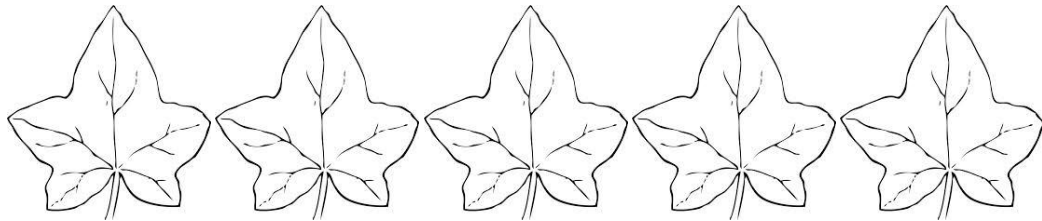
QUANTE BANANE?	
QUANTE BANANE COLORATE?	
QUANTA FRUTTA?	
QUANTE BARCHE?	
QUANTE BARCHE A VELA?	
QUANTI CIBI?	
QUANTE ALBICOCCHE?	
QUANTI CUCCHIAI?	
QUANTE PERE?	
QUANTE FORCHETTE?	
QUANTI ELEMENTI?	
QUANTA FRUTTA COLORATA?	

# Leggi e completa i disegni

Ci sono 5 foglie.

La **PRIMA** e l'**ULTIMA** sono marroni.

Le **RIMANENTI** sono gialle.



---

Ci sono 6 vasi.

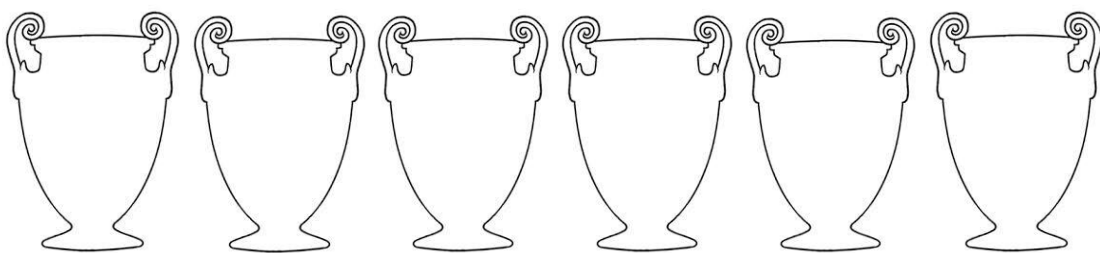
Nel primo vaso ci sono tre fiori rossi.

Nel secondo ce n'è uno **IN MENO**.

Nell'**ULTIMO** ci sono cinque fiori gialli.

Nel **PENULTIMO** ce ne sono **ALTRETTANTI VERDI**.

Nei **RIMANENTI** ci sono quattro fiori azzurri.




# Leggi e completa i disegni

Ci sono 6 pesci.

Il **SECONDO** e l'**ULTIMO** sono gialli.

I **RIMANENTI** sono rossi.



---

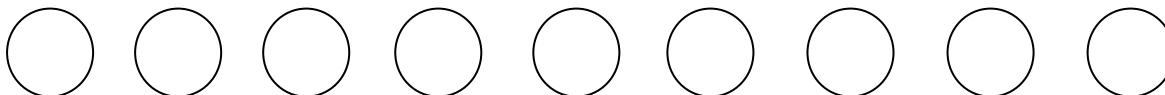
CI SONO 9 PALLINE.

LA **PRIMA** E' ROSSA.

L'**ULTIMA** E' GIALLA.

LA **PENULTIMA** E' UGUALE ALL'ULTIMA.

LE **RIMANENTI** SONO AZZURRE.



---

CI SONO 7 MACCHININE.

LA **PRIMA** E' VERDE.

LA **TERZA** E' GRIGIA.

L'**ULTIMA** E' ARANCIONE.

LA **PENULTIMA** E' UGUALE ALL'ULTIMA.


LE **RIMANENTI** SONO VIOLA.



# Disegna e rispondi

C'è una fila di sei cesti:

- Nel primo cesto ci sono quattro mele rosse;
- Nel secondo cesto ce ne sono **ALTRETTANTE** ma di colore verde;
- Nel terzo ci sono tre mele gialle;
- Nel quarto c'è una mela gialla **IN PIU'** del primo cesto;
- Nel quinto c'è una mela verde **IN MENO** del primo cesto;
- Nell'**ULTIMO** ci sono le stesse mele del **PENULTIMO**.

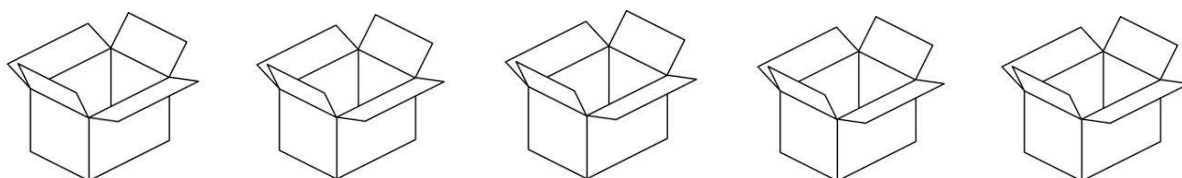


Quante mele?	
Quante mele rosse?	
Quante mele <b>NON</b> rosse?	
Quante mele verdi?	
Quanti cesti?	
Quanti cesti hanno mele rosse?	
Quanti cesti hanno mele verdi?	
Quanti cesti hanno cinque mele rosse?	
Quante mele gialle?	
Quante mele rosse ci sono nell' <b>ULTIMO</b> cesto?	
Quante mele verdi ci sono nel <b>PRIMO</b> cesto?	

# Disegna e rispondi

Ci sono quattro scatole:

- nella prima ci sono due colori azzurri;
- nella seconda ce ne sono **ALTRETTANTI** ma di colore viola;
- nella terza ci sono tre colori arancioni;
- nella quarta ci sono due colori gialli **IN PIU'** della prima scatola;
- nell'**ULTIMA** ci sono gli stessi colori che ci sono nella **PENULTIMA**.



Quanti colori?	
Quante colori rossi?	
Quante colori <b>NON</b> rossi?	
Quanti colori arancioni?	
Quanti colori viola?	
Quanti colori azzurri?	
Quante scatole?	
Quante scatole hanno colori azzurri?	
Quante scatole hanno colori arancioni?	
Quante scatole hanno quattro colori gialli?	
Quante scatole viola ci sono?	
Quanti colori marroni ci sono nell' <b>ULTIMA</b> scatola?	
Quanti colori gialli ci sono nella <b>PENULTIMA</b> scatola?	
Quanti colori verdi ci sono nella <b>PRIMA</b> scatola?	

